

Türkçe • Hayat Bilgisi • Matematik • İngilizce

Tatil Zili

KASIM
Ara Tatil Kitabı



2 .SINIF



Çözüm Hattı
0850 308 6306

MaVitikli
yayıncılık

ROBO

Yeni Asistanın



İmtiyaz Sahibi

Mavitikli Ltd. Şti.

Mavitikli Yayıncılık Genel Müdürü

Murat SONSÖZ

Satış Pazarlama

Ahmet SONSÖZ

Yayın Yönetmeni

Serdal ÖZEN

Yazar

Fatih TOPLUGÜL

Dizgi

Mavitikli Dizgi Birimi

Kapak Tasarımı

Mustafa TÜRKERİ

Baskı

Ayrıntı Basımevi

(Matbaa Sertifika No:49599)

Ankara

ISBN 978 – 605 – 73003 – 2 – 4

Mavitikli
yayıncılık

Arı Sanayi Kooperatifi 2284 cad.1468 sk no: 116

İvedik – Yenimahalle / Ankara



Tel: 03123957756

Bu Kitabın tüm hakları


Mavitikli Dergi yayın Eğitim Basın Basım Dağıtım ve Tic. Ltd.Şti.ne aittir.

Her ne amaçla olursa olsun tamamı veya bir kısmı elektronik, mekanik, fotokopi, manyetik ya da başka yöntemlerle çoğaltılamaz, basılamaz, dağıtılamaz.

✂️ Aşağıdaki hayvanlardan adındaki sesli harflerin hepsi "e" olan görselleri boyayalım.




✂️ Harflerin altındaki noktaları, alfabetik sıraya göre birleştirip oluşan görseli boyayalım.



✍️ Tabloda verilen harfler ile isim - şehir oyunu oynayalım.



Harfler	İsim	Şehir	Hayvan	Bitki	Eşya
A	Arzu	Adana	Aslan	Ayva	Ayna
K	Kenan	Kars	Kertenkele	Kiraz	Koltuk
M	Melisa	Malatya	Maymun	Marul	Masa
T	Tülay	Tokat	Tavşan	Turp	Tarak
Z	Zeynep	Zonguldak	Zürafa	Zambak	Zil

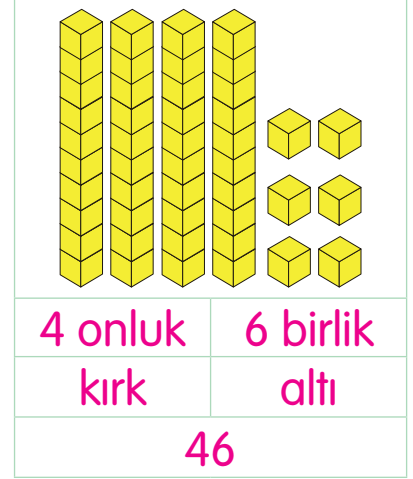


- 1) 3. görseldeki varlığın ikinci harfi
- 2) 2. görseldeki varlığın ilk harfi
- 3) 1. görseldeki varlığın üçüncü harfi
- 4) 4. görseldeki varlığın son harfi
- 5) 5. görseldeki varlığın dördüncü harfi

Verilen bilgilere göre aşağıdaki şifre sözcüğü bulalım.

ŞİFRE	1	2	3	4	5
	T	A	T	İ	L

✂ Onluk taban blokları ile modellenen sayıları örnekteki gibi yapalım.

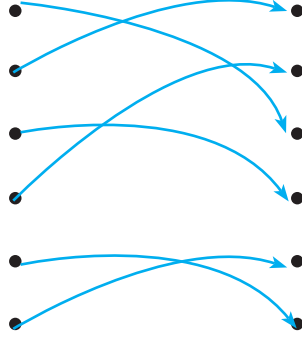




✂ Onluk ve birlikleri verilen sayıları, örnekteki gibi yazalım.




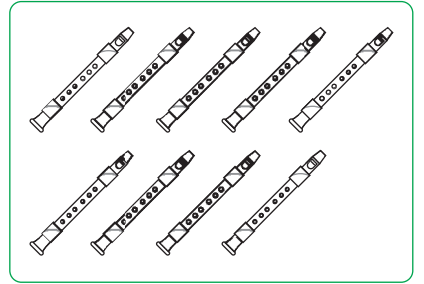
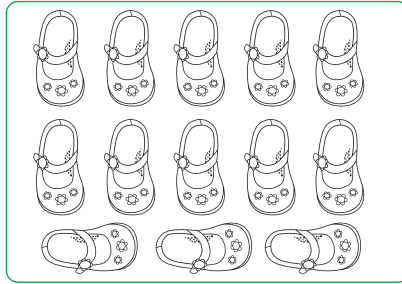

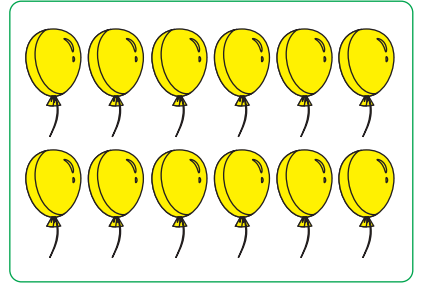

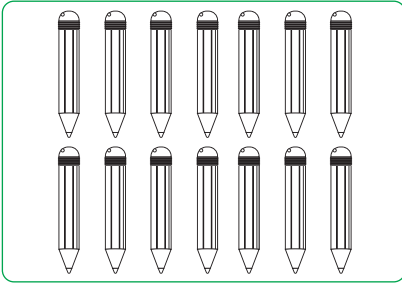
2 onluk, 3 birlik	23	3 onluk, 4 birlik	34
5 onluk, 3 birlik	53	4 birlik, 8 onluk	84
6 birlik, 3 onluk	36	7 onluk, 7 birlik	77
9 onluk, 1 birlik	91	5 birlik, 3 onluk	35



Verilen görselleri deste olacak şekilde örnekteki gibi eşleştirip aynı renge boyayalım.



Aşağıdaki nesnelere düzine olanları boyayalım.




✍ Uras ve Erva'nın görsellerini aşağıda verilen fiziksel özelliklerine göre çizerek boyayalım.

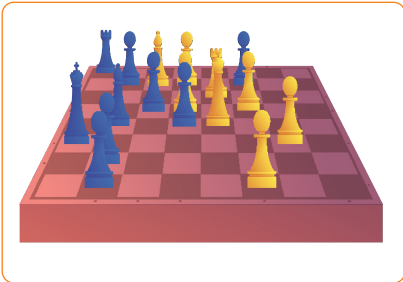

Uras
Sarı saçlı, mavi gözlü, zayıf ve uzun boyludur.



Erva
Siyah uzun saçlı, kahverengi gözlü, kilolu ve kısa boyludur.



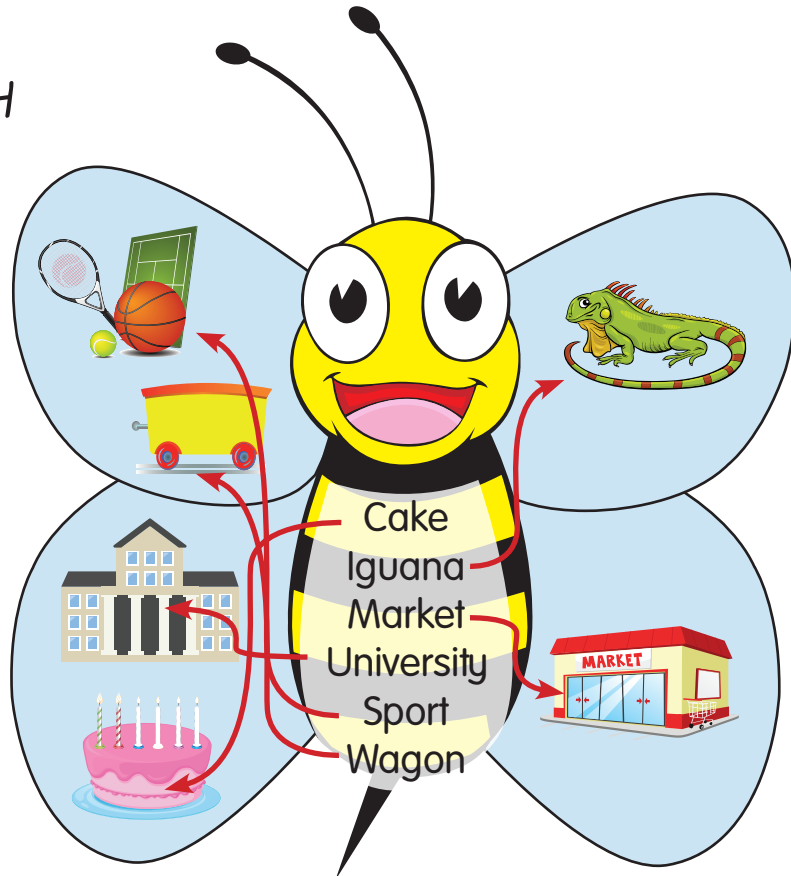
✍ Aşağıdaki görsellerden ilgi duyduklarınızı ve yeteneğiniz olanları boyayınız.




A CHOOSE and WRITE




B MATCH




✂ Aşağıdaki meyvelerin adlarını alfabetik sıraya göre numaralandırıp boyayalım.




1



3




4




2


✂ Aşağıdaki hayvanların adlarını alfabetik sıraya göre numaralandırıp boyayalım.




4



1

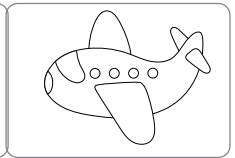


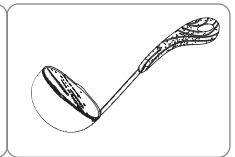


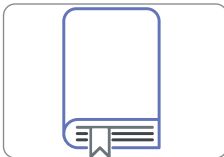


3



2

✂ Adı sözlükte daha önce gelen resmin altındaki kutucuğu ve nesneyi boyayalım.



✍ Verilen hecelerden örnekteki gibi anlamlı sözcükler oluşturalım.

ta	→	tarak	takım	tabak	tahin
sa	→	salata	sakız	saman	sayı
ki	→	kilo	kitap	kiraz	kilim
me	→	Melisa	Melek	metal	memur
da	→	damar	dama	damak	damacana
le	→	leke	leğen	lego	Leman

✍ Aşağıda karışık verilmiş heceleri örnekteki gibi birleştirip yazalım.

ha ki el ki def ha a e tap ılı ter raz ma kıl rik yat

kitap

deffer

halı

elma

hayat

kiraz

erik

akıl

✎ Aşağıda verilen sayıların örnekteki gibi basamak adlarını ve basamak değerlerini yazınız.

2 3	Basamak adı	Basamak Değeri
	Birler basamağı	3
	Onlar basamağı	20

5 4	Basamak adı	Basamak Değeri
	Birler basamağı	4
	Onlar basamağı	50

8 2	Basamak adı	Basamak Değeri
	Birler basamağı	2
	Onlar basamağı	80

6 9	Basamak adı	Basamak Değeri
	Birler basamağı	9
	Onlar basamağı	60

✎ Taban blokları ile modellenen sayılar ile ilgili tabloları örnekteki dolduralım.


46	kırk altı
onlar basamağı	birler basamağı
40	6

32	otuz iki
onlar basamağı	birler basamağı
3	2


53	elli üç
onlar basamağı	birler basamağı
50	3

45	kırk beş
onlar basamağı	birler basamağı
40	5


✍ Aşağıdaki ikişer ritmik saymaları ileriye doğru sürdürüelim.



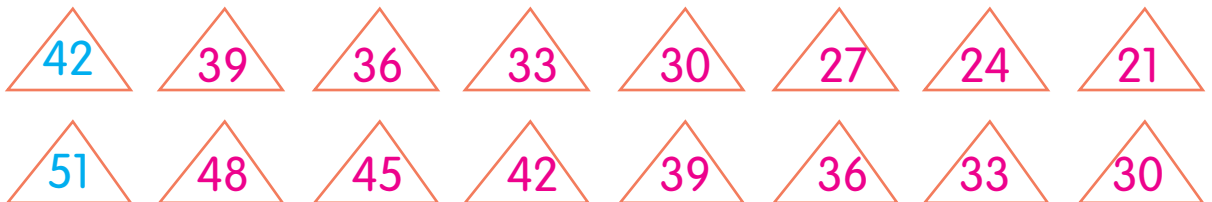
✍ Balonlardaki ikişer ritmik saymaları geriye doğru sürdürüelim.



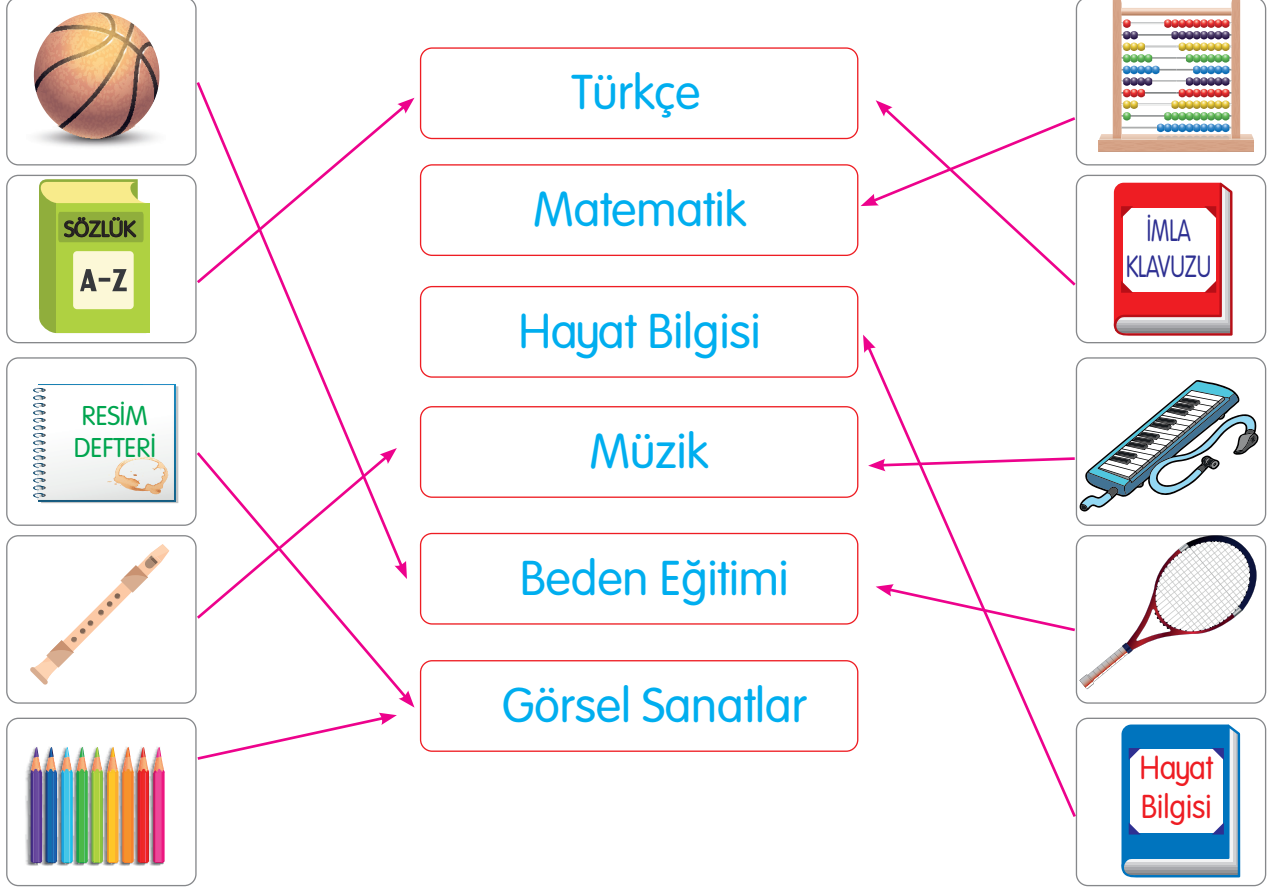
✍ Tren vagonlarındaki üçer ritmik saymaları ileri doğru sürdürüelim.



✍ Aşağıdaki üçer ritmik saymaları geriye doğru sürdürüelim.



✏️ Görsellerde verilen araç gereçlerin hangi ders ile ilişkili olduğunu eşleştirelim.



✏️ Aşağıda verilen bilgilerden sınıf kuralı olan ifadelerin başındaki yıldızı sarıya boyayalım.

- ★ Çöplerimizi yere atmamalıyız.
- ☆ Yatağımı düzenlerim.
- ★ Söz hakkı almadan konuşmam.
- ★ Arkadaşlarımdan sözünü kesmem.
- ☆ Çantamı akşamdan hazırlarım.
- ☆ Sofrayı hazırlamaya yardım ederim.
- ★ Sınıf eşyalarını özenli kullanırım.

A LET'S LEARN



B WRITE "A-AN" and MATCH

1. a balloon

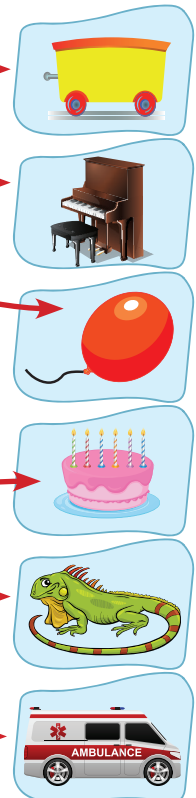
2. an ambulance

3. an iguana

4. a wagon


5. a cake

6. a piano



KADIN İLE ŞİŞMAN TAVUK

Bir kadının her sabah yumurtlayan bir tavuğu varmış. Kadın pazarda yumurta satıyormuş. Tavuğun yumurtaları kocamanmış. Bu yüzden pazarda iyi para ediyormuş. Kadın "Eğer tavuğumun yemini iki katına çıkarırsam günde iki kere yumurtlar." diye düşünmüş. Başlamış tavuğa bol bol yem vermeye. Tavuk da yedikçe semirmiş, çok yem yediği için şişmanlamış. Halinden öyle memnunmuş ki, sonunda yumurtlamayı bütün bütüne bırakmış.



Ezop Masalları

Aşağıdaki soruları metne göre cevaplayınız.

1) Tavuk ne zaman yumurtlamış?

Her sabah yumurtlamış.

2) Tavuğun yumurtaları nasılmış?

Tavuğun yumurtaları kocamanmış.

3) Kadın yumurtaları nerede satıyormuş?

Kadın yumurtaları pazarda satıyormuş.

4) Tavuk niçin şişmanlamış?

Çok yem yediği için şişmanlamış.

5) Kadın, tavuğun daha fazla yumurtlaması için ne yapmış?

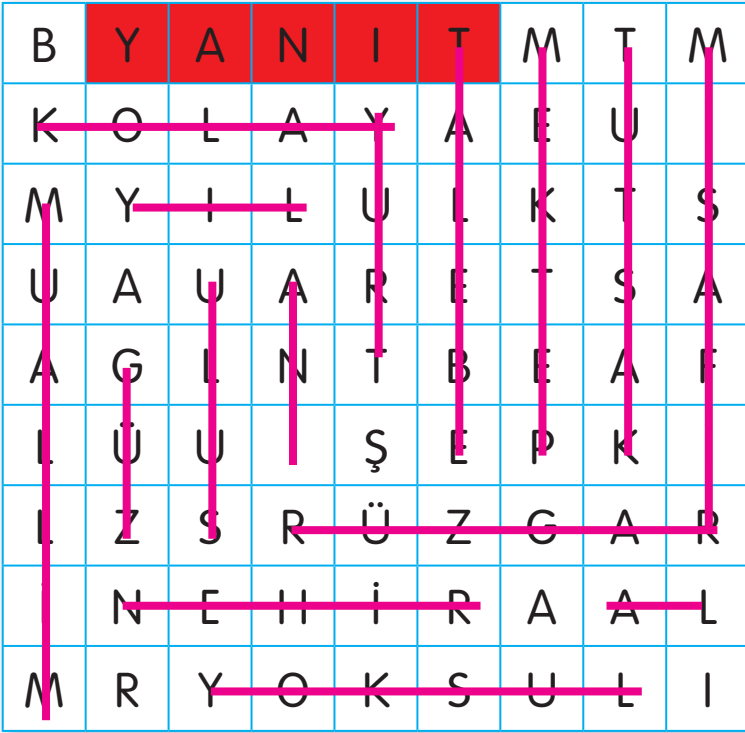
Tavuğun yemini iki katına çıkarmış.

6) Pazarda yumurtaları kim satıyormuş?

Kadın satıyormuş.

✂ Aşağıdaki sözcüklerin eş anlamlılarını bulmacada bulup örnekteki gibi boyayalım. Boyanmayan harfleri sırasıyla yazarak şifreyi bulalım.

CEVAP	OKUL	KONUK	BASİT
ÖĞRETMEN	ÖĞRENCİ	SENE	VATAN
ESİR	FAKİR	HATIRA	SONBAHAR
MİLLET	YEL	IRMAK	KIRMIZI



ŞİFRE

B

A
















Ş

A













R

İ



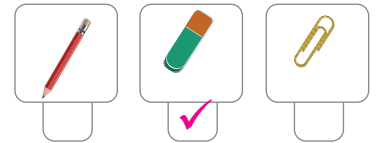


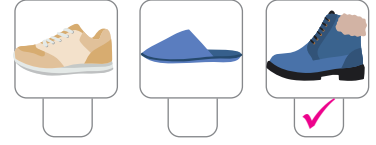
✂ Aşağıdaki beşer ritmik saymada boş bırakılan yerleri dolduralım.

				
5	10	15	20	25
				
30	35	40	45	50
				
55	60	65	70	75

✂ Aşağıdaki dörder ritmik saymada boş bırakılan yerleri dolduralım.

							
4	8	12	16	20	24	28	32
							
36	40	44	48	52	56	60	64

✂ Aşağıdaki örüntülerde eksik bırakılan şekilleri işaretleyelim.



✂ Aşağıdaki sayı örüntülerini dörder adım devam ettirelim.


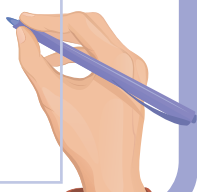
7	9	11	13	15	17	19	21	23
4	7	10	13	16	19	22	25	28
5	10	15	20	25	30	35	40	45
36	32	28	24	20	16	12	8	4
49	46	43	40	37	34	31	28	25
65	60	55	50	45	40	35	30	25
51	49	47	45	43	41	39	37	35

✍️ Aşağıdaki ifadelerden doğru olanların başındaki yıldızı sarıya boyayalım.

- ☆ Sınıf panosunu düzenlemek sadece öğretmenin görevidir.
- ☆ Sınıf kurallarına çalışkan öğrenciler uymasa da olur.
- ★ Konuşarak birlikte daha güzel karar verebiliriz.
- ☆ Farklı görüşlere saygı duymalıyız.
- ☆ Sınıf kurallarını rehber öğretmen belirler.
- ★ Sınıf kurallarını hep beraber belirlemeliyiz.
- ★ Sınıfta söz hakkı almadan konuşmamalıyız.

✍️ Aşağıdaki okul tanıtım kartındaki boş yerleri kendi okulunuza göre doldurunuz.


Okulumuzun Adı	ÖĞRENCİ CEVABI
Bulunduğu Mahalle	GEÇERLİDİR
Bulunduğu İlçe	
Bulunduğu İl	
Okulun çevresinde bulunan iş yerleri ve binalar	



A LET'S LEARN




B CIRCLE

- 


What's your name?

a. I'm great, thanks.

b. My name is Serap.
- 


How are you?

a. Good morning.

b. I'm great, thanks.
- 

Good bye!

a. Bye!

b. Good morning.
- 

Good morning.

a. Good morning.

b. Good bye.

AĞUSTOS BÖCEĞİ VE KARINCA

Havanın soğumaya başladığı günlerin birinde karıncalar yazın biriktirdikleri yiyecekleri kış geldiğinde tüketebilmek için yer altındaki depolarına koyuyorlardı. Açlıktan bayılacak bir halde olan ağustos böceği yanlarına gelerek bir lokma yiyecek istedi.



“Bütün bir yaz ne yaptınız?” diye sordu karıncalar.

“Ne mi yaptım? Gece gündüz şarkı söyledim durdum.” dedi ağustos böceği.

“Ne güzel!” diye yanıtladı karıncalar gülerek.

“Bütün bir yaz şarkı söylediniz demek, kışın da oynarsınız artık biraz.”

Ezop Masalları

1) Karıncalardan kim yemek istemiş?

Ağustos böceği yemek istemiş.

2) Karıncalar yiyeceklerini nereye biriktiriyorlarmış?

Yer altındaki depolarına biriktiriyorlarmış.

3) Karıncalar yiyeceklerini ne zaman biriktirmiş?

Yazın biriktirmişler.

4) Ağustos böceği bütün yaz ne yapmış?

Gece gündüz şarkı söyleyip durmuş.

5) Karıncaların yanlarına gelen ağustos böceği nasıl bir haldeymiş?

Açlıktan bayılacak haldeymiş.

✍️ Aşağıdaki sözcüklerin zıt anlamlılarını bulmacada uygun yerlere yazalım.



1) ZENGİN

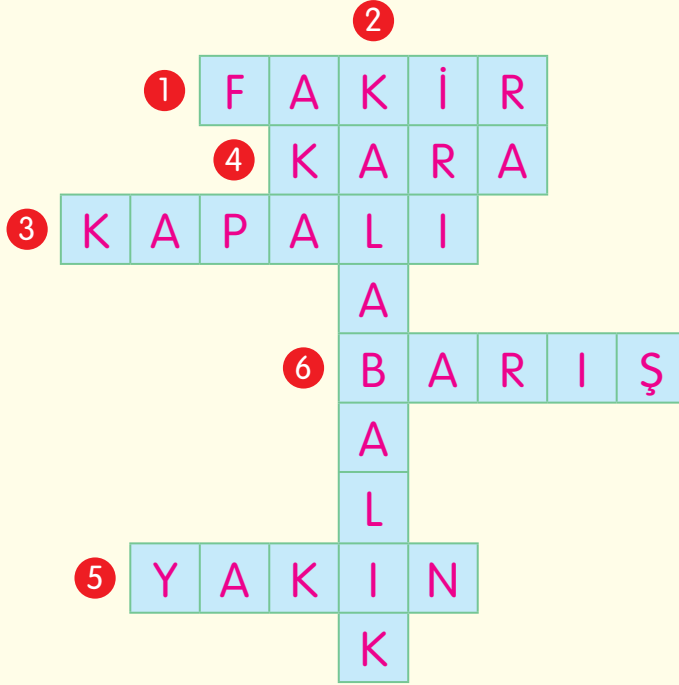
2) TENHA

3) AÇIK

4) AK

5) UZAK

6) SAVAŞ



✍️ Tabloda verilen sözcüklerin zıt anlamlılarını karşılarına yazalım.

Sözcükler	Zıt Anlamlısı
batı	doğu
yanlış	doğru
ince	kalın
başlamak	bitirmek
ilk	son
ön	arka

Sözcükler	Zıt Anlamlısı
kötü	iyi
güzel	çirkin
soru	cevap
alçak	yüksek
üvey	öz
kirli	temiz



✍️ Aşağıdaki sayıları uygun kutuların içine yazalım.

15 - 26 - 85 - 49 - 93 - 79 - 32 - 23 - 76 - 63

63	85	93
76		79
50'den büyük sayılar		

23	15	32
26		49
50'den küçük sayılar		

✍️ Aşağıdaki sayı çiftlerinden küçük olanı işaretleyelim.

13	14
<input checked="" type="checkbox"/>	<input type="checkbox"/>

43	34
<input type="checkbox"/>	<input checked="" type="checkbox"/>

25	39
<input checked="" type="checkbox"/>	<input type="checkbox"/>

38	40
<input checked="" type="checkbox"/>	<input type="checkbox"/>

63	36
<input type="checkbox"/>	<input checked="" type="checkbox"/>

73	17
<input type="checkbox"/>	<input checked="" type="checkbox"/>

39	12
<input type="checkbox"/>	<input checked="" type="checkbox"/>

43	24
<input type="checkbox"/>	<input checked="" type="checkbox"/>

✍️ Aşağıdaki sayı çiftlerinden büyük olanı işaretleyelim.

16	26
<input type="checkbox"/>	<input checked="" type="checkbox"/>

34	49
<input type="checkbox"/>	<input checked="" type="checkbox"/>

81	18
<input checked="" type="checkbox"/>	<input type="checkbox"/>

75	39
<input checked="" type="checkbox"/>	<input type="checkbox"/>

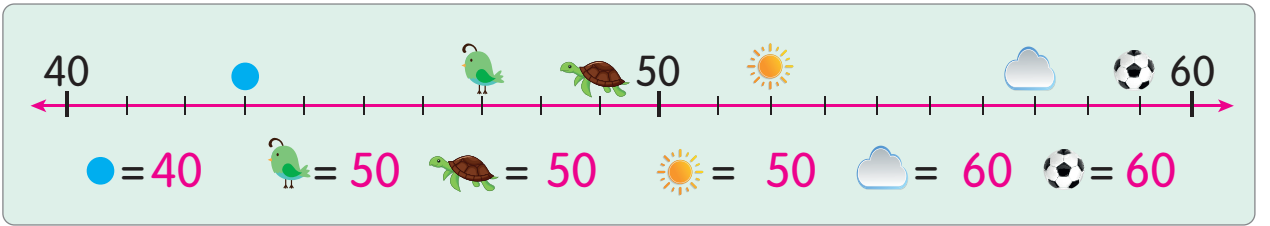
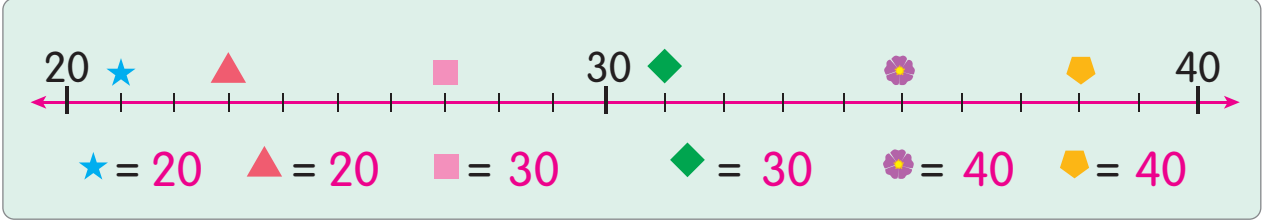
32	15
<input checked="" type="checkbox"/>	<input type="checkbox"/>

42	26
<input checked="" type="checkbox"/>	<input type="checkbox"/>

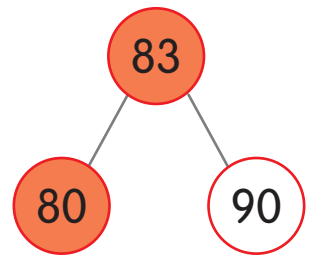
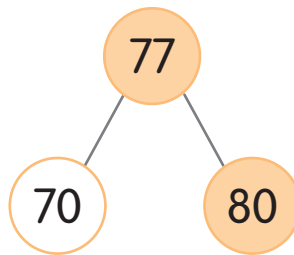
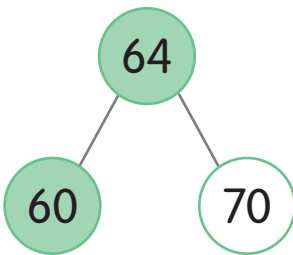
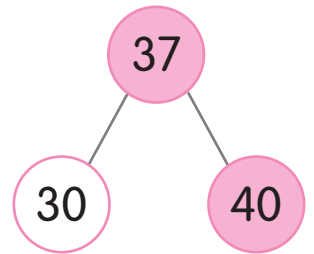
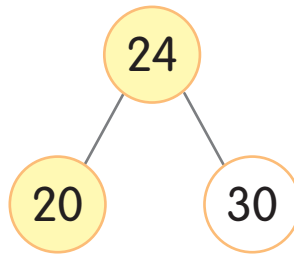
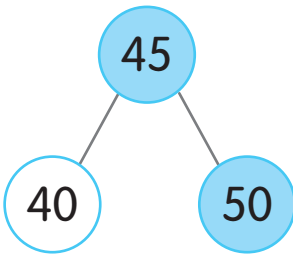
48	50
<input type="checkbox"/>	<input checked="" type="checkbox"/>

51	39
<input checked="" type="checkbox"/>	<input type="checkbox"/>


✍ Aşağıdaki sayı doğruları üzerinde sembollerle belirtilen sayıların en yakın onluğunu bulup yazalım.



✍ Renkli dairelerde verilen sayıların en yakın onluğunu bulup aynı renge boyayalım.



✂️ Aşağıdaki görsellerden doğru davranışların kutucuğunu yeşile, yanlış davranışların kutucuğunu kırmızıya boyayalım.



✂️ Aşağıda çalışırken dikkat etmemiz gereken değerlerin harfleri karışık olarak verilmiştir. Sözcükleri düzelterek yazalım.

ESİGV

SEVGİ

LEDATA

ADALET

UMUSROLLUK

SORUMLULUK

AYISG

SAYGI

DOKLUST

DOSTLUK

DIMARY

YARDIM

ASBIR

SABIR

NEVÜG

GÜVEN

İĞİBİŞRİL

İŞBİRLİĞİ

A FILL IN THE DIALOGUE



B UNSCRAMBLE

1. your name What's _____? What's your name _____?

2. How are you _____? are How you

3. great thanks I'm _____, I'm great, thanks _____.

4. My name is Serap _____ is Serap name My

SİNEKLER VE BAL KAVANOZU

Yaşlı kadın akşam eve gelecek olan torununa yemek hazırlıyormuş. O sırada masanın üstünde duran bir bal kavanozunu devirip kırmış. Bal çok keskin ve güzel kokuyormuş. Kokuyu alan sinekler, bal kavanozuna üşüşmüşler hemen. Balı yemeye başlamışlar. Yedikçe yemişler, yedikçe yemişler, balın tek damlasını bırakmamışlar. Ama ayakları yapıştığı için uçup gidememişler.



“Ne aç gözlü, ne aptal yaratıklarız biz.” diye bağırmışlar.

“Bir anlık keyif için canlarımızı tehlikeye attık.” demişler.

Aşağıdaki soruları metne göre cevaplayınız.

1) Yaşlı kadın kime yemek hazırlıyormuş?

Torununa yemek hazırlıyormuş.

2) Yaşlı kadının torunu ne zaman eve gelecekmiş?

Akşam eve gelecekmiş.

3) Bal nasıl kokuyormuş?

Çok keskin ve güzel kokuyormuş.

4) Bal kavanozu nerede duruyormuş?

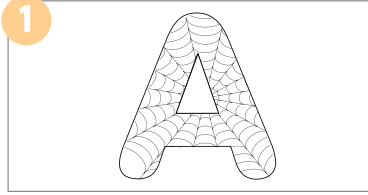
Masanın üstünde duruyormuş.

5) Sinekler neden uçup gidememişler?


Ayakları yapıştığı için uçup gidememişler.



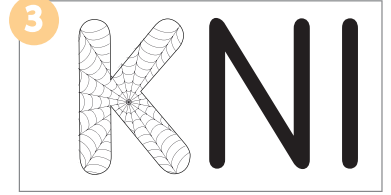
Resfebe zekâ oyununda ağlarla örülü harf, görsel, rakam vb. okunurken okunan ögenin önüne veya arkasına "ağ" kelimesi de eklenir. Örneğin aşağıdaki "A" harfi ağlarla örülü olduğu için "Ağa" diye okunmaktadır. Bu bilgiden faydalanarak aşağıdaki resfebelerin cevaplarını bulalım.




A Ğ A



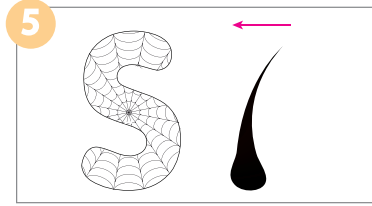
DAĞ



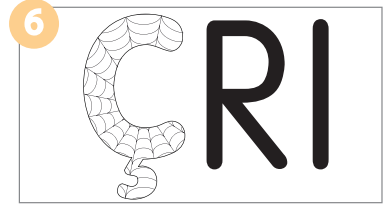
KAĞNI



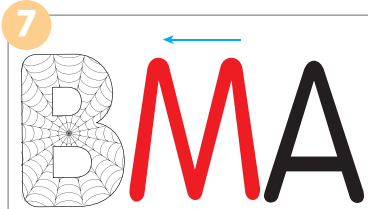
BAĞ



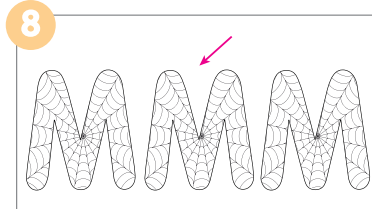
SAĞLIK



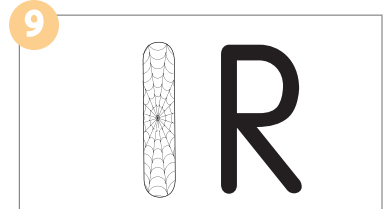
ÇAĞRI



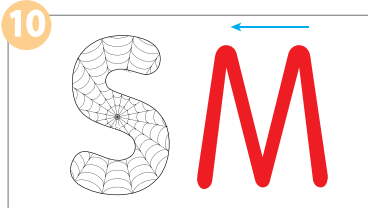
BAĞLAMA



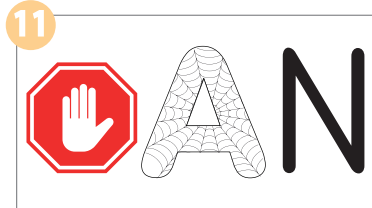
MAĞARA




AĞIR



SAĞLAM



DURAĞAN



AŞAĞI

✂ Sayı bloklarıyla modellenen toplama işlemlerini örnekteki gibi yapalım.

$$\begin{array}{r} 36 \\ + 21 \\ \hline 57 \end{array}$$

$$\begin{array}{r} 42 \\ + 31 \\ \hline 73 \end{array}$$

$$\begin{array}{r} 55 \\ + 34 \\ \hline 89 \end{array}$$

$$\begin{array}{r} 60 \\ + 33 \\ \hline 93 \end{array}$$

$$\begin{array}{r} 34 \\ + 41 \\ \hline 75 \end{array}$$

✍️ Aşağıdaki toplama işlemlerini yapıp şifreyi bulalım.

T	$\begin{array}{r} 23 \\ + 44 \\ \hline 67 \end{array}$	E	$\begin{array}{r} 35 \\ + 23 \\ \hline 58 \end{array}$	P	$\begin{array}{r} 45 \\ + 24 \\ \hline 69 \end{array}$	L	$\begin{array}{r} 65 \\ + 23 \\ \hline 88 \end{array}$	O	$\begin{array}{r} 46 \\ + 10 \\ \hline 56 \end{array}$			
D	$\begin{array}{r} 38 \\ + 21 \\ \hline 59 \end{array}$	L	$\begin{array}{r} 49 \\ + 30 \\ \hline 79 \end{array}$	E	$\begin{array}{r} 63 \\ + 21 \\ \hline 84 \end{array}$	L	$\begin{array}{r} 86 \\ + 12 \\ \hline 98 \end{array}$	M	$\begin{array}{r} 73 \\ + 26 \\ \hline 99 \end{array}$			
	A	$\begin{array}{r} 46 \\ + 32 \\ \hline 78 \end{array}$	i	$\begin{array}{r} 36 \\ + 21 \\ \hline 57 \end{array}$	A	$\begin{array}{r} 40 \\ + 25 \\ \hline 65 \end{array}$						
58	88	59	84	98	57	67	56	69	79	78	99	65
E	L	D	E	L	i	T	O	P	L	A	M	A

✍️ Aşağıdaki sayıları soldan sağa ve yukarıdan aşağıya doğru toplayalım.

+ →	$\begin{array}{r} \downarrow \\ 18 \quad 21 \quad 39 \\ 11 \quad 25 \quad 36 \\ 29 \quad 46 \end{array}$	+ →	$\begin{array}{r} \downarrow \\ 23 \quad 32 \quad 55 \\ 16 \quad 43 \quad 59 \\ 39 \quad 75 \end{array}$	+ →	$\begin{array}{r} \downarrow \\ 34 \quad 15 \quad 49 \\ 45 \quad 22 \quad 67 \\ 79 \quad 37 \end{array}$
+ →	$\begin{array}{r} \downarrow \\ 41 \quad 17 \quad 58 \\ 16 \quad 12 \quad 38 \\ 57 \quad 29 \end{array}$	+ →	$\begin{array}{r} \downarrow \\ 37 \quad 12 \quad 49 \\ 30 \quad 17 \quad 47 \\ 67 \quad 29 \end{array}$	+ →	$\begin{array}{r} \downarrow \\ 63 \quad 23 \quad 86 \\ 24 \quad 45 \quad 69 \\ 87 \quad 68 \end{array}$

✂️ Aşağıdaki ifadeleri, verilen sözcüklerden uygun olanı ile tamamlayalım.

asla	başka işlerle	yüzüne
sözünü	dinleyici	dikkatlice

- 1) Arkadaşım konuşurken sözünü **asla** kesmem.
- 2) Arkadaşımı dinlerken **yüzüne** bakarım.
- 3) Öğretmenim konuşurken **başka** **işlerle** uğraşmam.
- 4) Konuşmacının **sözünü** kesmek doğru değildir.
- 5) İyi bir iletişim için iyi bir **dinleyici** olmak gerekir.



✂️ Aşağıda verilen tabloya sevdiğimiz bir oyunu ve kurallarını yazalım.

	Oyunun Adı	ÖĞRENCİ
	Oyuncu Sayısı	CEVABI
	Süresi	GEÇERLİDİR
	Oynanan Yer	
	Kurallar	

2.SINIF

YAYINLARIMIZ



HİKAYE SETLERİ

Kutulu 10 Hikaye
+ Değerlendirme
Testi Hediye

Mavitikli

yayıncılık

İvedik OSB. Mah. 2284. Cad. 116

Yenimahalle/ANKARA

0.312. 395 77 56

[f](#) [@](#) [v](#) /mavitikliyayincilik

www.mavitikli.com.tr

